

















1 [→MP] Pričítaj.

$12 + 5 = 17$ 
 $6 + 13 =$ 
 $12 + 4 =$ 
 $9 + 8 =$ 
 $12 + 8 =$ 
 $7 + 6 =$ 
 $9 + 3 =$ 
 $4 + 0 =$ 

2 [→MP] Odčítaj.

$10 - 8 = 2$ 
 $17 - 7 =$ 
 $16 - 5 =$ 
 $19 - 4 =$ 
 $18 - 10 =$ 
 $13 - 4 =$ 
 $15 - 8 =$ 
 $11 - 0 =$ 

3. Spočítaj jablká a hrušky, porovnaj čoho je viac \geq .

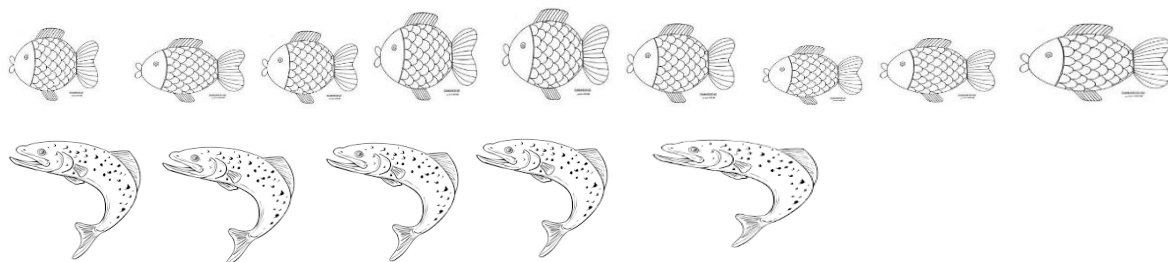
Porovnaj škrtním a zapíš, čoho je viac.



MAT_PL17_3.r.A Meno žiaka:.....

1. Vyrieš úlohu.

V rybníku plávalo 9 kaprov a 5 pstruhov. Koľko rýb plávalo v rybníku spolu ?



Riešenie:

Kaprov: _____

Pstruhov: _____

Spolu: _____

V rybníku plávalo _____ rýb.

2. Vypočítaj:

$15 + 4 =$

$16 + 3 =$

$17 + 3 =$

$9 + 4 =$

$11 + 5 =$

$13 + 2 =$

$15 + 0 =$

$8 + 5 =$

3. Vypočítaj:

$20 - 4 =$

$12 - 2 =$

$14 - 5 =$

$16 - 0 =$

$9 - 5 =$

$10 - 6 =$

$15 - 3 =$

$18 - 7 =$

4. Porovnaj \geq .

20 13

4 14

16 0

20 19

11 17




8 18

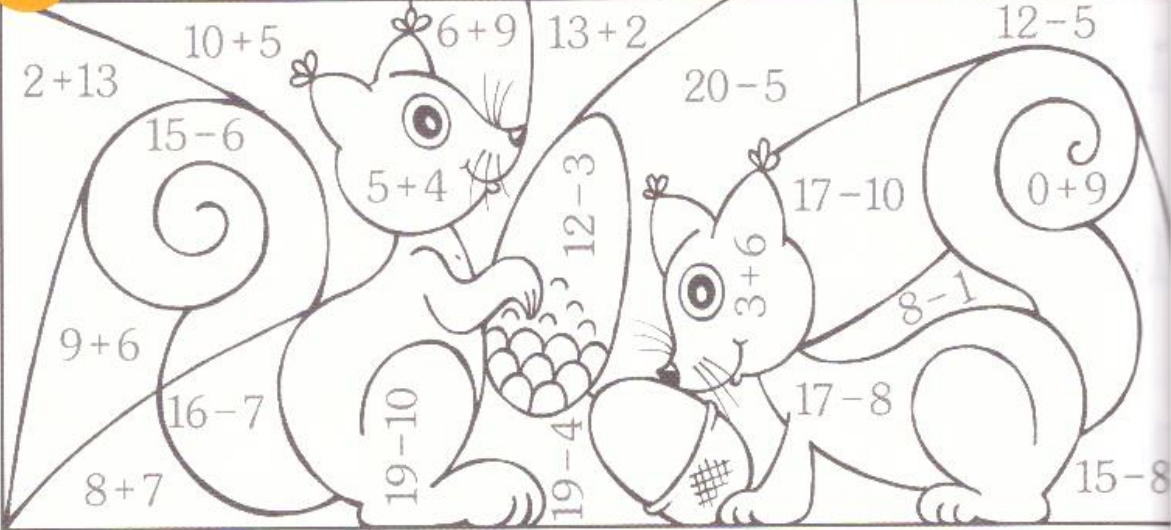
13 11

0 2

1. Vypočítaj a vyfarbi podľa pokynov.

červená zelená žltá

4 Vyfarbi:  výsledok je 15,  výsledok je 7,  výsledok je 9



2. Oprav chybné vypočítané príklady.

$$12 - 2 = \cancel{9} \quad 10$$

$$11 - 1 = 10$$

$$12 - 4 = 10$$

$$11 - 3 = 8$$

$$13 - 4 = 7$$

$$15 - 3 = 12$$

3. Zakrúžkuj najmenšie číslo.

8, 4, 5

4, 5, 8

3, 7, 6

7, 19, 13

8, 14, 15, 11

17, 4, 20, 1

1 Dopíš, čo vygumovali Gumkáči.



$8 + \quad = 10$

Hovor si:
tri a koľko je
desať?

$9 + \quad = 10$

$5 + \quad = 10$

$3 + 7 = 10$

$2 + \quad = 10$

$7 + \quad = 10$


$4 + \quad = 10$

$1 + \quad = 10$

$6 + \quad = 10$

Tri a sedem
je desať.

$10 + \quad = 10$



2 [→MP] Počítaj.

$8 + 9 =$

$8 + 5 =$

$8 + 8 =$

$8 + 3 =$

$8 + 4 =$

$8 + 6 =$

3 Vypočítaj.

$9 + 4 =$

$9 + 5 =$

$9 + 2 =$

$9 + 6 =$

$9 + 7 =$

$9 + 8 =$

$9 + 3 =$

$9 + 9 =$

$9 + 0 =$

4 Počítaj pozorne.

$7 + 6 =$

$7 + 8 =$

$7 + 4 =$

$6 + 9 =$

$3 + 8 =$

$6 + 8 =$

$4 + 8 =$

$2 + 9 =$

$5 + 9 =$

$5 + 7 =$

$6 + 7 =$

$9 + 2 =$